

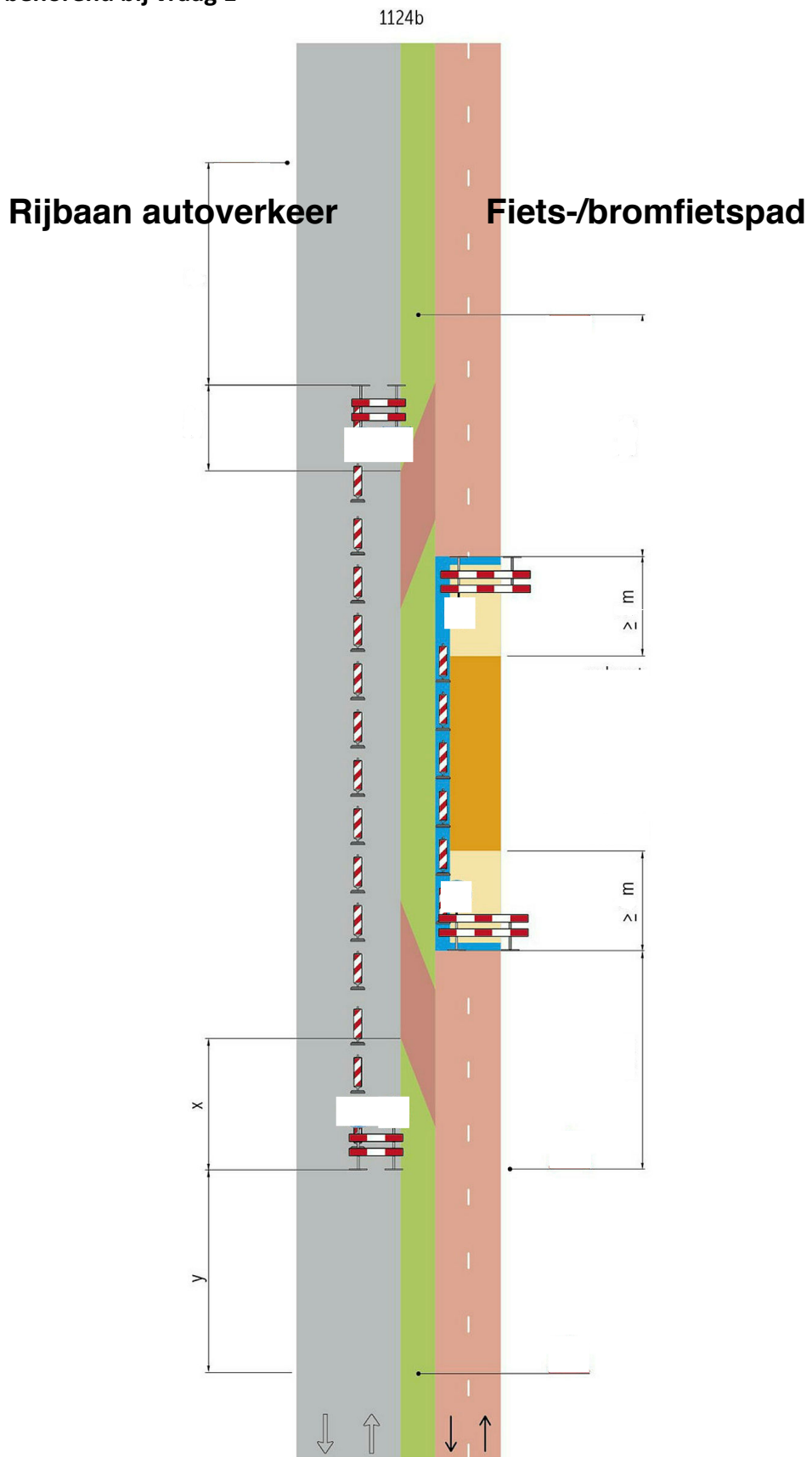
**Examenvragen Infra kwaliteit op basis van de Eind- en toetstermen bij BRL 9101:2017 ex bijlage 5. Kenmerk 17-033(2) d.d. 20 juni 2017.**

**Open Examenvragen voor Vakman VKM (versie 2, d.d. 4 december 2017).**

**Vraag 1**

- Situatie: Opbouw stationaire afzetting op fietspaden.  
Werken over de volle breedte van het fiets/bromfietspad met afsluiting en tijdelijk fietspad en gedeeltelijke afsluiting rijbaan autoverkeer.  
Wegcategorie: Binnen de bebouwde kom. Rijbaan autoverkeer: 50 km/h.  
Tijdsduur: > 2 uur.  
Tijdelijke snelheidsbeperking autoverkeer: 30 km/h.
- Vraag: Geef in de onderstaande figuur aan welke verkeersborden nodig zijn en op welke plaats deze moeten staan volgens de richtlijnen van de CROW.

Situatie behorend bij vraag 1



**Vraag 2**

Situatie: Maatregelen regionale stroomwegen.  
Werken naast de rijbaan met handhaving van de rijbaanbreedte en afzetting volledig naast de rijbaan.

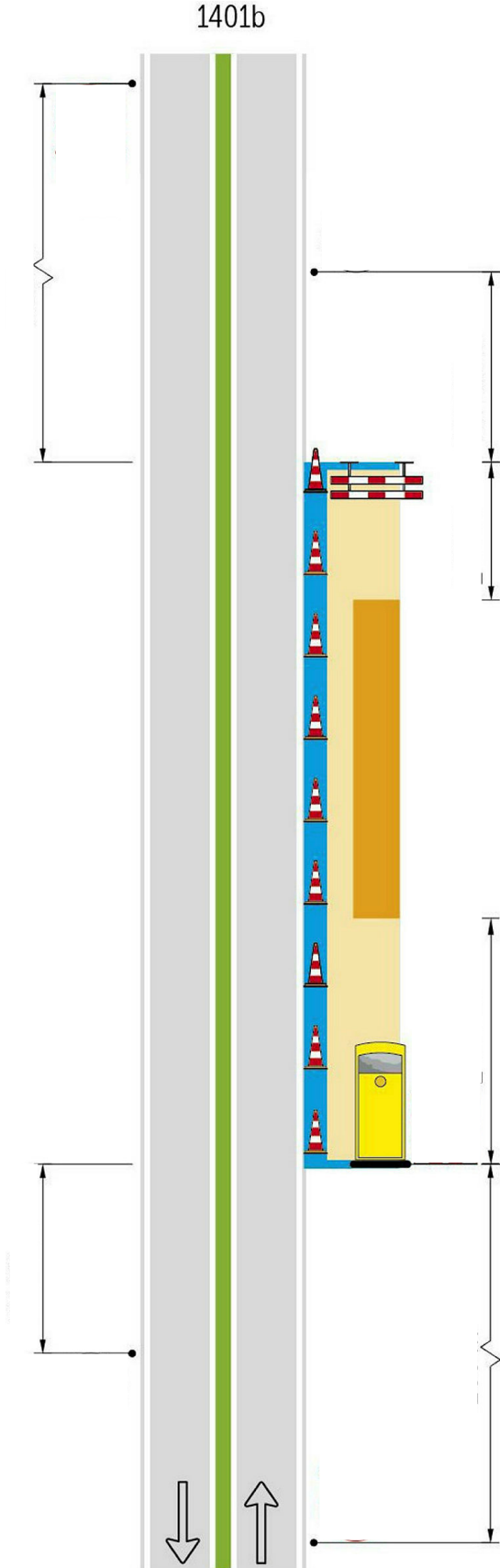
Wegcategorie: RWS: 100 km/h.

Tijdsduur: > 2 uur.

Tijdelijke snelheidsbeperking: 70 km/h.

Vraag: Geef in de onderstaande figuur aan welke verkeersborden nodig zijn en op welke plaats deze moeten staan volgens de richtlijnen van de CROW.

Situatie behorend bij vraag 2

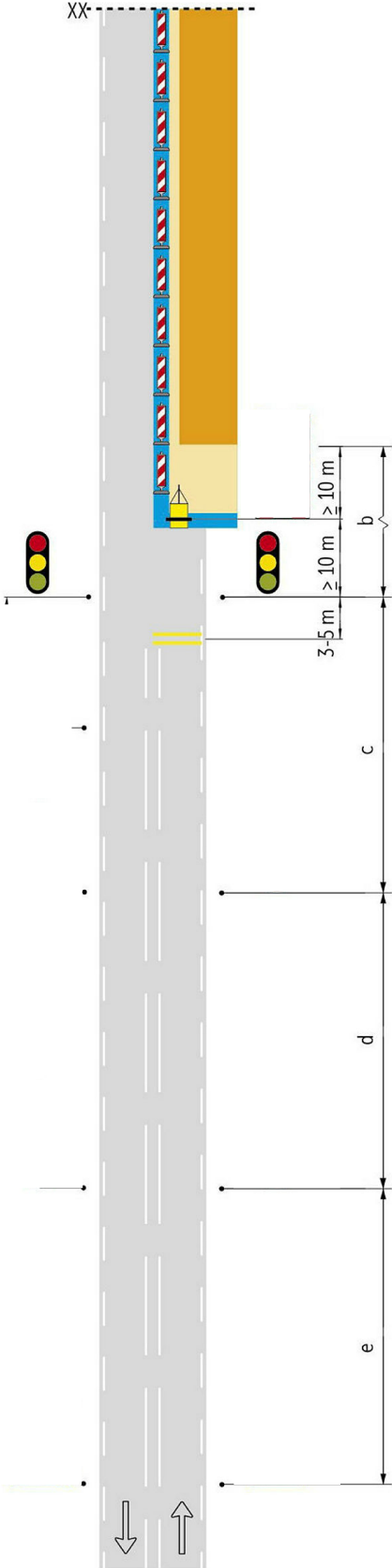


**Vraag 3**

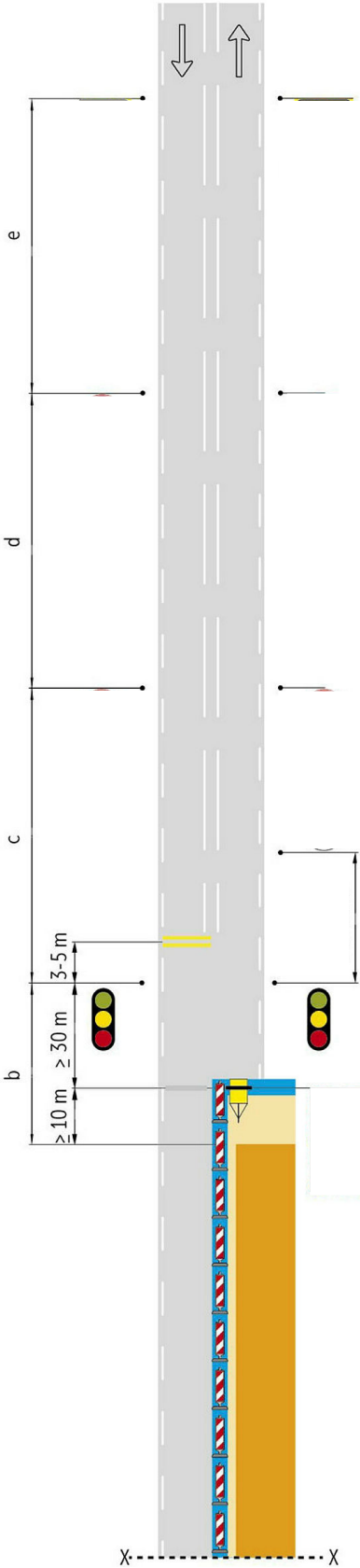
Situatie: Maatregelen op gebiedsontsluitingswegen (niet-autosnelwegen).  
Werken vanaf of op de rijbaan met versmalling tot één rijstrook.  
Wegcategorie: GOW: 70/80 km/h.  
Tijdsduur > 2 uur.  
Tijdelijke snelheidsbeperking: 50 km/h.

Vraag: Geef in de onderstaande figuur aan welke verkeersborden nodig zijn en op welke plaats deze moeten staan volgens de richtlijnen van de CROW.

Situatie behorend bij vraag 3



1306c

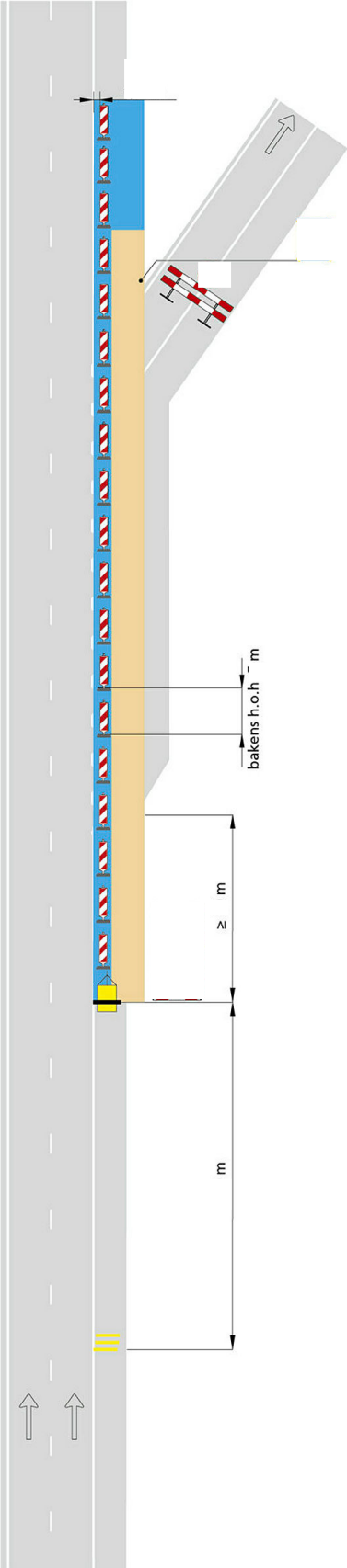


**Vraag 4**

Situatie:           Maatregelen op autosnelwegen 2017.  
Stationaire verkeersmaatregelen naast de rijbaan, buiten de invloedssfeer van de weg.  
Wegcategorie:           RWS: 120 km/h.  
Tijdsduur 6 uur  
Tijdelijke snelheidsbeperking: n.v.t.

Vraag:           Geef in de onderstaande figuur aan welke verkeersborden nodig zijn en op welke plaats deze moeten staan volgens de richtlijnen van de CROW.

Situatie behorend bij vraag 4





**Vraag 5**

Situatie: Maatregelen op autosnelwegen 2017.  
Werken op linkerrijstrook voorbij invoegstrook.  
Wegcategorie: RWS: 120 km/h.  
Tijdsduur 6 uur.  
Tijdelijke snelheidsbeperking: 90 km/h. Door middel van tijdelijke rijstrooksignalingering.

Vraag: Geef in de onderstaande figuur aan welke verkeersborden nodig zijn en op welke plaats deze moeten staan volgens de richtlijnen van de CROW.

Situatie behorend bij vraag 5

